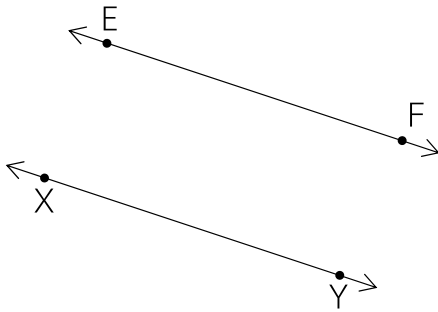


ใบงาน เรื่อง เส้นขนาน

คำสั่ง

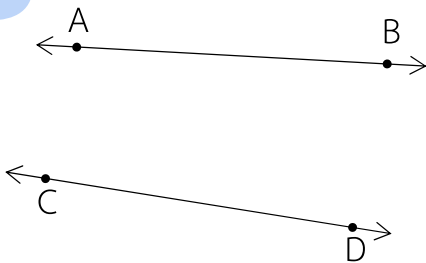
ตรวจสอบระยะห่างระหว่างเส้นตรงแต่ละคู่ และเส้นตรงแต่ละคู่ขนานกันหรือไม่ เพราะเหตุใด

1



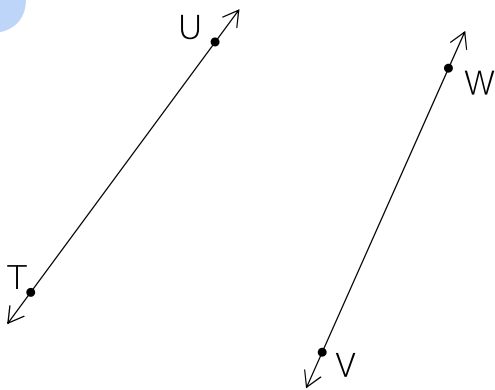
.....
.....
.....

2



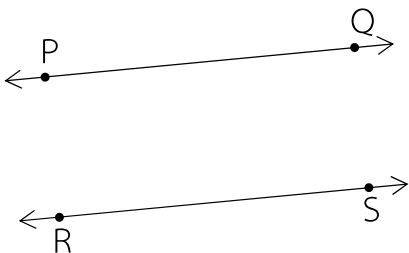
.....
.....
.....

3



.....
.....
.....

4



.....
.....
.....